



HAFİZİHO&PROJEİHO

4. SINIFLAR

SEVİYE BELİRLEME SINAVI

2023

Adı Soyadı :

Okulu :

T.C. Kimlik No :

ALANLAR	SORU SAYISI	TOPLAM SORU SAYISI	SÜRE
TÜRKÇE	15	60 SORU	90 DAKİKA
MATEMATİK	15		
FEN BİLİMLERİ	10		
SOSYAL BİLGİLER	10		
DİN KÜL.AH.BİL.	10		

1. Sınav süresince gözetmenlerin uyarılarına dikkat ediniz.
2. Sınav süresince kitap, sözlük veya elektronik araçları yanınızda bulundurmuyunuz.
3. Cevap kağıdınızdaki bilgilerin doğruluğunu kontrol ediniz.
4. Kitapçık üzerindeki ad-soyad, sınıf-no, okul bilgileriniz kodlamayı unutmayınız.
5. Cevap kağıdınız üzerinde bulunan kitapçık türünü doğru kodladığınızdan emin olunuz.
6. Sınavın değerlendirilmesi optik okuma araçları ve elektronik ortamda yapılacağından ikili veya toplu kopya çekilmesi tespit edilmektedir. Bu gibi durumlarda sınavınız geçersiz sayılacaktır.
7. Cevap kağıdı üzerinde kurşun kalemle işaretleme yapınız. Değiştirmek istediğiniz cevabınızı yumuşak silgi ile iz bırakmadan siliniz. Cevap kağıdınızı buruşturmayınız ve katlamayınız.
8. Soru kitapçığınızı sınav başlamadan kontrol ediniz. Eksik sayfa varsa değiştirilmesini isteyiniz.
9. Sınav bitiminde cevap kağıdınızı teslim etmeyi unutmayınız. Her sorunun bir doğru cevabı bulunmaktadır.
10. Başlayınız denilmeden kitapçığınızı açmayınız.
11. **ÖNEMLİ: TC Kimlik numaranızı cevap formu üzerindeki alana dikkatli kodlayınız.**

© Her hakkı saklıdır. İzinsiz kopyalanamaz, alıntı yapılamaz, yayınlanamaz.

15 AFİŞ TASARIM YARIŞMASI

24 HAZİRAN - 9 TEMMUZ 2019

Birincilik Ödülü 2.000 TL İkincilik Ödülü 1.000 TL Üçüncülük Ödülü 500 TL 6 Kişiye Mansiyon Ödülü 250 TL

Ödül Töreni
Tarih : 15 Temmuz 2019 Pazartesi
Yer : Prof. Dr. M. Lütfü Çakmakçı Kültür Merkezi

SÜLEYMAN DEMİREL
ÜNİVERSİTESİ

1. Yukarıdaki görselde bir yarışmaya ait bilgiler gösterilmektedir.

Bu görselden:

- I- Yarışmayı hangi kurumun düzenlediği
II- Nereden başvuru yapılabileceği
III- Katılımın kaç kişiyle sınırlandırıldığı

Bilgilerinden hangisine ulaşılabilir?

- A) Yalnız II B) I ve II C) II ve III D) I, II ve III

2. Sözcüklerin sonuna eklenen eklerden bazıları onlara yeni bir anlam kazandırır. Bu ekin eklendiği sözcük de "Türemiş sözcük" olarak adlandırılır.

Buna göre aşağıda altı çizili kelimelerden hangisi türemiş bir sözcüktür?

- A) Sesin geldiği tarafa doğru hızlı adımlarla koşan adamları durdurmaya çalıştı.
B) Kendinden o kadar geçmişti ki neredeyse burnunun ucunu dahi göremiyordu.
C) Sitenin girişinde kendisini bekleyen kapıcıyı görünce bir terslik olduğunu düşündü.
D) Okula gelirken bindiği otobüsün motorundan farklı sesler geldiğini fark ettir.

3. Hikayeler genellikle giriş, gelişme ve sonuç şeklinde bölümlere ayrılır. Giriş bölümleri hikayenin kahramanları veya olayın geçtiği yerin genel özelliklerinin anlatıldığı bölümdür. Öncesinde başka bir bölüm olmadığı için bu bölümde önceden devam ettirilen bir metin bulunmamalıdır.

Buna göre aşağıdakilerden hangisi bir yazının giriş bölümü olabilir?

- A) Küçük bir ilçenin meydanında dükkanı olan bir ayakkabı tamircisi vardı.
B) İşte bu şekilde mağlup olan ülkelere en kötü şartlarda antlaşma sunulmuş.
C) Nihayet otobüsün gelmesi ile oraya zamanında varabilecekti.
D) Günümüzde artık hiç kimse bu iş için gönüllü olmak istemiyor.

4. Sultan Ahmet Camii, 1609-1617 yılları arasında Osmanlı Padişahı I. Ahmed tarafından İstanbul'daki tarihî yarımada, Mimar Sedefkâr Mehmed Ağa'ya yaptırılmıştır. Cami mavi, yeşil ve beyaz renkli İznik çinileriyle bezendiği için ve yarım kubbeleri ve büyük kubbesinin içi de yine mavi ağırlıklı kalem işleri ile süslediği için Avrupalılarca "Mavi Camii (Blue Mosque)" olarak adlandırılır.

Verilen cümlede Sultan Ahmet Camii ile ilgili aşağıdaki sorulardan hangisinin cevabı bulunmamaktadır?

- A) "Mavi Cami" diye isimlendirilmesi nasıl olmuştur?
 B) Nerede yer almaktadır?
 C) Tahminen ne zaman inşa edilmiştir?
 D) Yapımı ne kadara mal olmuştur?

5. Selam, Müslümanlar arasında sevgi, saygı ve samimiyeti arttıran güzel bir vasıta. Selamı veren, muhabbetini ve iyi niyetini ifadede öncülük ettiğinden, selamı alan da bir iki kelime fazlasıyla cevap vererek bu güzel davranışa karşılık vererek sevap kazanırlar. Ayrıca selam alma ve verme konusunda pek çok ayet ve hadis de bulunmaktadır.

Bu metne verilecek en uygun başlık aşağıdakilerden hangisidir?

- A) Selamlaşmanın önemi
 B) Selamlaşma kuralları
 C) Farklı selam türleri
 D) Selamın verilmesi gereken yerler

6. Aşağıdakilerden hangisinde karşıt anlamlı kelimeler aynı cümle içinde kullanılmıştır?

- A) İyisiyle kötüsüyle bir yıl daha geçti.
 B) Canlı ve diri bir görüntüsü vardı.
 C) Kırmızı renk ile mavi rengi karıştırdı.
 D) Denizi geçip derede boğulmak gibi.

7. Öznel görüş; doğruluğu ispat edilemeyen kişisel düşüncelere dayalı olan görüştür. İspat edilemediği için herkes tarafından kabul edilmeyebilir. Özellikle nesnel gözlem, veri ve istatistik bilgilerine dayanmaz.

Buna göre aşağıdaki cümlelerin hangisinde kişisel bir görüş vardır?

- A) Bu okulun yapımı 16 ay sürdü.
 B) İstiklal Marşımız on kitadan oluşuyor.
 C) Yumurta herkes tarafından sevilen ve çok tüketilen temel bir yiyecektir.
 D) Yapılan ölçümlere göre havadaki kirlilik oranı tehlike sınırına yaklaşmış.

8. (1) Geçen gün yolda karşılaştık. (2) Beni o kadar soğuk karşıladı ki şaşırımdım. (3) Oysa daha birkaç gün öncesinde birlikte yolculuk yapmıştık. (4) Gayet şen şakrak bir yolculuktu.

Bu metindeki numaralandırılmış cümlelerden hangisinde "karşıdaki insanı dikkate almıyormuş gibi ve samimiyetsiz davranmak" anlamına gelen mecaz anlamlı bir ifade kullanılmıştır?

- A) 1. B) 2. C) 3. D) 4.

9. Bir siteye yeni üyelik başvurusunda bulunmak isteyen bir müşteri üyelik formu doldurmaktadır. Sıra şifresini belirlemeye geldiğinde ise karşısına şöyle uyarılar çıkmıştır:

- Şifreniz en az dört, en çok sekiz karakter olmalıdır.
- Şifrenizde en az bir büyük harf ve en az bir rakam olmalıdır.
- Şifrenizde noktalama işaretlerinden en az bir adet bulunmalıdır.
- Şifrenizde Türkçe alfabemizde bulunmayan harfler kullanmayınız.

Buna göre aşağıdakilerden hangisi şifre olarak belirlenebilir?

- A) rkWkd.54
- B) Grr93.fsVk
- C) Rk.29394
- D) koQei.3

10. Uçak → Havaalanı
Tren → İstasyon

Yukarıda verilen kelime grupları arasında anlamca bir ilişki bulunmaktadır.

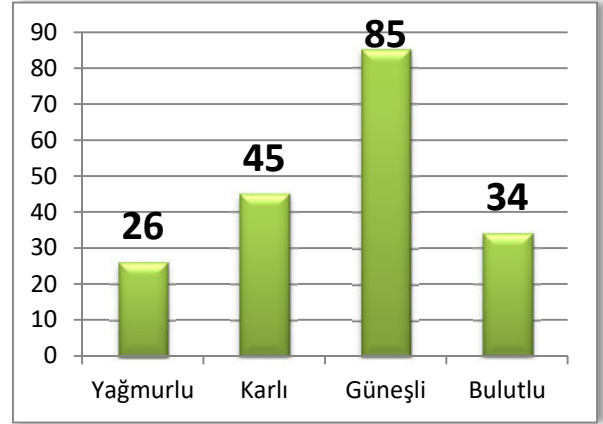
Buna göre aşağıdaki kelime grupları arasında hangisinde benzer bir anlam ilişkisi bulunmaktadır?

- A) Araba → Tamirci
- B) Gemi → Liman
- C) Metro → Ray
- D) Bisiklet → Tekerlek

11. Aşağıdaki cümlelerden hangisinin sonuna soru işareti getirilmelidir?

- A) Ne kadar üzgün olduğumu tahmin edebiliyorum
- B) Hangi tür canlının yaşadığı belli değil
- C) Sen mi bildin yoksa o mu bildi
- D) Nasıl bu kadar eksik kaldığını anladım

12. Bir okulda öğrencilerin hangi hava durumunu daha çok sevdiği ile ilgili bir grafik aşağıda gösterilmektedir.



Bu grafiğe göre aşağıdakilerden hangisi yanlıştır?

- A) En çok güneşli hava sevilmiştir.
- B) Karlı hava, bulutlu havadan daha çok sevilmiştir.
- C) Yağmurlu havayı sevenler diğer hava durumlarını sevenlerden azdır.
- D) Hem bulutlu hem de karlı havayı sevenler diğerlerinden çoktur.

13. Sağlık Bakanlığına bağlı tüm sağlık kurum ve kuruluşlarına muayene randevu hizmeti sunan Merkezi Hekim Randevu Sistemi (**MHRS**), gelişmiş teknolojiler ışığında yenilenmeye ve hizmet kalitesini arttırmaya devam ediyor. **MHRS**; vatandaşların Sağlık Bakanlığına bağlı hastaneler ile ağız ve diş sağlığı merkezleri ve aile hekimlerine Alo182 arayarak canlı operatörlerden, web üzerinden ya da **MHRS** mobil uygulamasından kendilerine istedikleri hastane ve hekimden randevu alabilecekleri bir sistemdir.

Parçaya göre MHRS ile ilgili aşağıdakilerden hangisi yanlıştır?

- A) Hastane randevuları için kolaylık sağlamaktadır.
- B) Farklı şekillerde randevu alınmasına imkan sağlamaktadır.
- C) Merkezi Hekim Randevu Sistemi'nin kısaltılmış halidir.
- D) Telefon olmadan kullanılmayan bir sistemdir.

14. Aşağıdaki cümlelerde geçen altı çizili sözcüklerin hangisinde yazım yanlışı yoktur?

- A) Necip Fazıl kısakürek tarafından yazılmış birbirinden güzel şiirler vardır.
- B) Takımımız katıldığı turnuvayı 1.inci olarak tamamlamış.
- C) Biliyorum ki eğer istersen kazanamayacağın hiçbir sınav yok.
- D) Senin için istediğimi kendim içinde isemezsem doğru olmaz.

15. (Soruyu aşağıdaki tabloya göre cevaplandırınız.)

Stadyum	Yapım yılı	Kapasite	Şehre Ulaşım
Olimpiyat Stadı	2002	75000	Hızlı Tren, Otobüs, Uçak, Gemi
Büyükşehir Arena	2014	42000	Hızlı Tren, Otobüs, Uçak
4 Eylül Stadı	2016	15060	Otobüs, Uçak
Corendon Park	2015	33000	Otobüs, Uçak, Gemi
Stadyumlara ait bilgiler			

Milli takımın bir sonraki maçının yapılacağı stadyumla ilgili şu bilgiler yer almaktadır:

Maçın oynanacağı stadyum;

- En yeni stad değildir.

- Kapasite olarak en az 35000 kişiliktir.

- Ulaşım imkanı en çok olan şehir seçilmemiştir.

Buna göre maçın oynanacağı yer aşağıdakilerden hangisidir?

- A) Olimpiyat Stadı
- B) Büyükşehir Arena
- C) 4 Eylül Stadı
- D) Corendon Park

Türkçe testi sona ermiştir. Lütfen Diğer Teste Geçiniz.

Cevap Formunuzda Cevaplarınızı Bir Sonraki Bölüme Kodlayınız.

1. Bir sürücü aracıyla hafta içi beş günde toplam 952 km yolculuk yapmıştır. Pazartesi günü 214, Salı günü 202, Çarşamba günü 258, Perşembe günü ise 187 km yolculuk yapmıştır. Cuma günü yolculuk yapılan km miktarı ayrıca hesaplanmalıdır.

Buna göre bu sürücünün aracıyla en çok ve en az yolculuk yaptığı günlerin toplam kilometresi aşağıdakilerden hangisidir?

- A) 329
B) 349
C) 389
D) 445

2. $K \times 100 = 6000$

Yukarıdaki işlemde K bir sayıdır. Bu çarpma işleminde her iki sayı da en yakın onluğa yuvarlanıp çarpım gerçekleştirilmiş ve sonuç 6000 çıkmıştır.

Buna göre işlemin gerçek sonucu en az kaç olabilir?

- A) 5225
B) 5350
C) 5430
D) 5650

3. Bir simitçinin üç günde sattığı simit sayısı aşağıdaki tabloda gösterilmektedir.

Gün	Satılan simit sayısı
Pazartesi	650
Salı	541
Çarşamba	564

Buna göre üç günde satılan simit sayısı toplamı kaçtır?

- A) $(7 \times 100) + (5 \times 10) + (5 \times 1)$
B) $(1 \times 1000) + (8 \times 100) + (2 \times 10) + (9 \times 1)$
C) $(1 \times 1000) + (7 \times 100) + (5 \times 10) + (5 \times 1)$
D) $(2 \times 1000) + (1 \times 100) + (4 \times 10) + (5 \times 1)$

4. Aşağıda verilen çıkarma işleminde



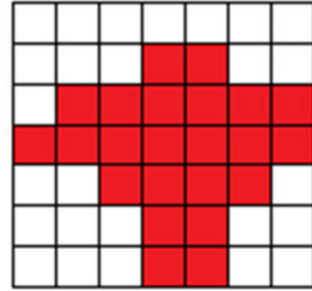
sembolleri birer doğal sayıdır.

$$\begin{array}{r} 986 \star \\ -2\triangle 87 \\ \hline 73\circ 8 \end{array}$$

Buna göre **sembollerinin toplam sayı değeri aşağıdakilerden hangisidir?**

- A) 16
B) 18
C) 20
D) 22

- 5.



Her bir hücresi birbirine eşit olan bu şekilde taralı alanın tüm şekle oranı kesir türünden aşağıdakilerden hangisinde gösterilmiştir?

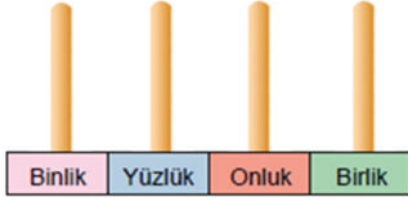
- A) $\frac{13}{23}$ B) $\frac{16}{23}$
C) $\frac{16}{49}$ D) $\frac{23}{49}$

6. Aşağıdaki toplama işleminde Δ ile \square birer tam sayıdır.

$$\frac{\Delta}{\square} + \frac{3}{41} = \frac{20}{41}$$

Buna göre $\Delta + \square$ işleminin sonucu aşağıdakilerden hangisi olabilir?

- A) 17
B) 20
C) 35
D) 58
7. Görseldeki abaküse boncuklar takılarak dört basamaklı bir doğal sayı modellenmesi yapılacaktır.

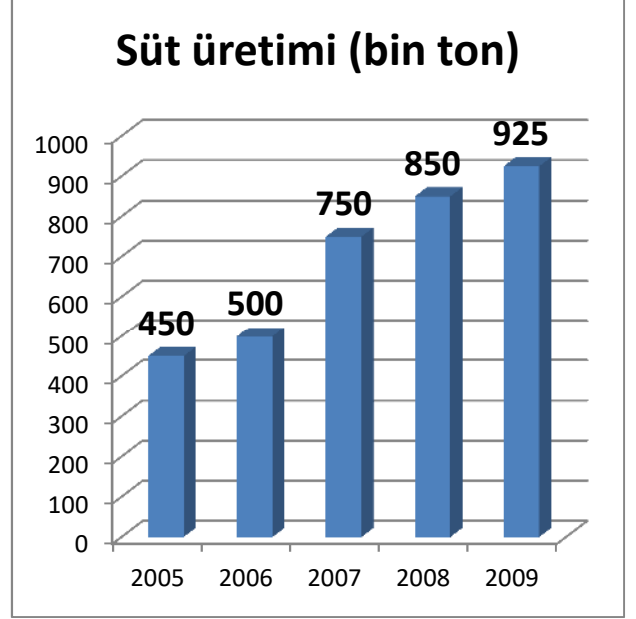


Modellenecek sayı, en yakın onluğa yuvarlandığında sonuç 6200 olmaktadır.

Buna göre bu koşulu sağlayan sayılardan en küçük olanını abakütle modellemek için kaç adet boncuk kullanılmalıdır?

- A) 21
B) 23
C) 25
D) 27
8. Saat 08.45'te Erzurum'dan yola çıkan Sivas otobüsü, 3 saat 58 dakika yol aldıktan sonra Erzincan'da 25 dakika mola veriyor. Otobüs molanın ardından saat 15.50'de Sivas'a ulaşıyor.
- Buna göre otobüs moladan sonra kaç saat kaç dakika daha yolculuk yapmıştır?
- A) 2 saat 17 dakika
B) 2 saat 42 dakika
C) 3 saat 7 dakika
D) 3 saat 12 dakika

9.



Verilen sütun grafiğinde bir şehirde 2005-2009 yılları arasındaki süt üretimi gösterilmektedir.

Buna göre bu şehirde hangi dönemler arasında üretimdeki artış en fazla gerçekleşmiştir?

- A) 2005-2006 arası
B) 2006-2007 arası
C) 2007-2008 arası
D) 2008-2009 arası
10. Bir doğal sayının 763 eksiği, rakamları birbirinden farklı en küçük dört basamaklı tek doğal sayıya eşittir.

Buna göre, bu doğal sayı kaçtır?

- A) 886
B) 1764
C) 1786
D) 2006

- 11.** Bir markette 1, 5 ve 10 litrelik plastik kaplarda su satışı yapılmaktadır. Bir hafta içinde 214 adet 1 litrelik, 42 adet 10 litrelik su satılmıştır. Aynı hafta satılan suyun litre olarak toplam miktarı 1059 litredir.

Buna göre aynı hafta satılan 5 litrelik su miktarı kaç adettir?

- A) 17
B) 85
C) 425
D) 1059

12.

$$\boxed{?} < (5244 - 1899)$$

Yukarıda verilen işlemde $\boxed{?}$ yerine yazılabilecek en büyük doğal sayı kaçtır?

- A) 3346
B) 3445
C) 3344
D) 3556

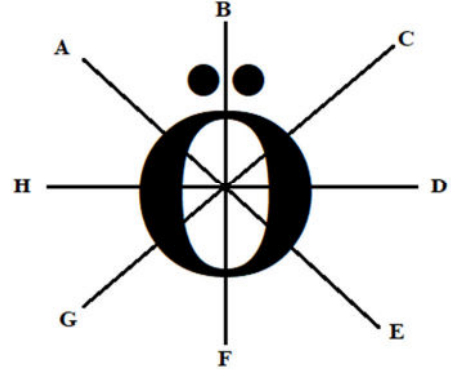
- 13.** Aşağıda verilen kutuların içindeki sayıların aralarında belli bir örüntü kuralı vardır.



Buna göre yukarıdaki örüntünün kuralı aşağıdakilerden hangisinde verilmiştir?

- A) Yarısı
B) Otuz iki eksiği
C) Dörtte birinin 12 fazlası
D) Yarısının on altı fazlası

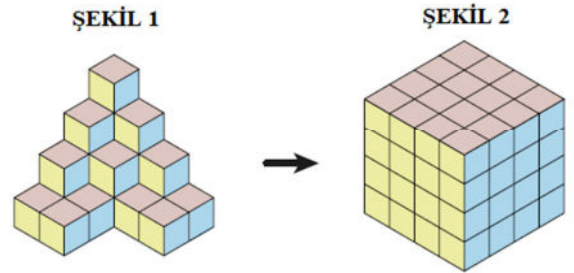
14.



Yukarıda verilen şeklin simetri doğrusu hangi iki harf arasındaki çizgiyle gösterilmiştir?

- A) BF
B) HD
C) CG
D) AE

15.



Şekil 1'de gösterilen küplere kaç adet küp daha eklenerek Şekil 2 elde edilebilir?

- A) 22
B) 32
C) 42
D) 52

Matematik testi sona ermiştir. Lütfen Diğer Teste Geçiniz.

Cevap Formunuzda Cevaplarınızı Bir Sonraki Bölüme Kodlayınız.

1. Görselde ters yönlerden hızla gelen iki aracın karıştığı bir kaza gösterilmektedir.



Hızla birbirine çarpan iki araç resimdeki gibi bir kazaya neden olmuştur. Bu kaza sırasında iki araç da birbirlerine karşılıklı olarak kuvvet uygulamıştır.

Bu kazada kuvvetin aşağıdaki hangi iki etkisine örnek bulunmaktadır?

- A) Hızlandırıcı – Yavaşlatıcı
B) Şekil değiştirici – Yavaşlatıcı
C) Hızlandırıcı – yön değiştirici
D) Şekil değiştirici – hızlandırıcı

2. Ülkemizde özellikle Tuz Gölü ve çevresi tuzun çokça üretildiği bölgelerin başında gelmektedir. Suyun içinde yoğun miktarda bulunan tuz, içinde bulunduğu suyun kaynatılması ile ayrıştırılır.

Bu durum karışım ayrıştırma konusunda aşağıdakilerden hangisine örnektir?

- A) Eleme
B) Süzme
C) Buharlaştırma
D) Mıknatıslama

3.



Çamaşır makinesinden çıkan ıslak çamaşır serildikten bir süre sonra kurur. Bunun nedeni çamaşırdaki suyun buharlaşmasıdır.

Bu örnek maddenin hangi hal değişimiyle açıklanabilir?

- A) Sıvıdan gaza
B) Katıdan sıvıya
C) Gazdan sıvıya
D) Sıvıdan katıya

4. Görsellerde buzun suya dönüşmesi ve suyun buharlaşması gösterilmektedir.



Verilen durumlar arasındaki ısı alış veriş sırasıyla aşağıdakilerden hangisinde verilmiştir?

	I	II
A)	alır.	verir.
B)	verir.	alır.
C)	verir.	verir.
D)	alır.	alır.

5. Bir deniz kaplumbağası türü olan Caretta caretta (Karetta karettta) sahillere yumurta bırakır. Yavrular, yumurtadan çıkar çıkmaz 5-10 metre ilerdeki denize ulaşmak zorundadır. Deniz kaplumbağaları denize ulaşabilmek için deniz ile kara arasındaki aydınlık farkını kullanır. Ancak şehirleşmenin getirdiği bir kirlilik çeşidi nedeniyle denize ulaşamayan, yollarını şaşırarak deniz kaplumbağaları, diğer hayvanlar tarafından avlanmaktadır.

Metinde aşağıdakilerden hangisinin doğal yaşam üzerinde olumsuz bir etkiye neden olduğu anlatılmaktadır?

- A) Işık kirliliği
B) Ses kirliliği
C) Deniz kirliliği
D) Çevre kirliliği

6.



Görsel jeolojik çağlarda yaşadığı yerde ölmüş ve bedeni, kalıntı şeklinde korunarak günümüze kadar gelmiş bir fosile aittir.

Bu fosille ilgili aşağıdakilerden hangisi söylenemez?

- A) Oluşması çok uzun yıllar almış olmalıdır.
- B) Ölür ölmez havayla teması kesilmiştir.
- C) Zamanla sertleşip kalıntı hale gelmiştir.
- D) Toprağın yüzeyinde uzun zaman kalmıştır.

7. Kayalar, farklı nedenlerle parçalanarak çakıl veya kum halini alırlar. Bu olay yeryüzünün pek çok yerinde tekrar eden bir durumdur. Çünkü farklı koşullarda farklı nedenlerle kayaların parçalanmasına rastlanabilir. Bu nedenlerden bazıları şöyledir:

- I. Su aşındırması
- II. Gece gündüz sıcaklık farkı
- III. Mineral yapısının değişmesi

Verilenlerden hangisi kayaların parçalanmasına etki eden nedenlerden değildir?

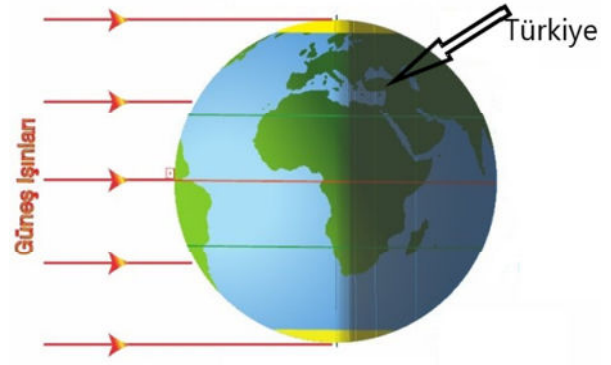
- A) Yalnız III
- B) I ve II
- C) II ve III
- D) I, II ve III

8. Ülkemizde en çok Sivas'ta çıkarılır. Çelik sanayisinin en önemli hammaddesidir. İnşaat başta olmak üzere pek çok alanda kullanılmaktadır.

Bu maden aşağıdakilerden hangisidir?

- A) Linyit
- B) Demir
- C) Mermer
- D) Bor

9.



Görselde ok işareti ile gösterilen yer ülkemiz Türkiye'dir. Avrupa'ya göre daha doğuda olan Türkiye'de hava henüz kararmışken daha batıda olan İtalya'da henüz gün batmamıştır.

Bunun nedeni Dünya'nın aşağıdaki hangi özelliği ile ilgilidir?

- A) Kendi eksenini etrafındaki dönüş süresi
- B) Güneş çevresindeki dolanım süresi
- C) Yeryüzünün farklı kıtalara ayrılmış olması
- D) Kendi eksenini çevresindeki dönüş yönü

10. Mehmet, lise çağlarında yaşitlarından daha uzun bir çocuktü. Bu durumun farklı nedenleri olabilir ancak kendisine sorulduğunda bebekliğinden beri süt, yoğurt, peynir gibi besinleri tüketmeyi çok sevdiğini söylemişti. Bu ürünlerin içindeki bir besin türünün büyümesine olumlu etki yapmış olabileceğini söyledi.

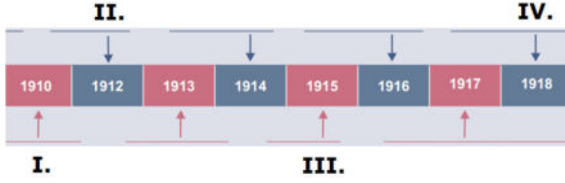
Bu ürünler içinde gelişime olumlu etki yapan madde aşağıdakilerden hangisidir?

- A) Karbonhidrat
- B) Yağ
- C) Protein
- D) C vitamini

Fen Bilimleri testi sona ermiştir. Lütfen Diğer Teste Geçiniz.

Cevap Formunuzda Cevaplarınızı Bir Sonraki Bölüme Kodlayınız.

1. Aşağıda Mustafa Kemal ATATÜRK'e ait bir tarih şeridi yer almaktadır. Bu tarih şeridinde Mustafa Kemal'in Çanakkale Savaşlarına katıldığı bölüm yazılmak istenmektedir.



Bu bölüm tarih şeridindeki hangi rakamın yerine yazılmalıdır?

- A) I.
B) II.
C) III.
D) IV.
2. Sevde: "Ailem, çiftçilikle geçimini sağlamaktadır. Kendimi bildim bileli hep buğday yetiştirmekteyiz. Babamlar, ürünlerimizin verimli olması için bitkilerimizin suyunu gübresini zamanında vermeyi ihmal etmezler. Fırınlardan çıkan mis kokulu sıcak ekmeği soframızda yerken hep babamların emekleri aklıma gelir."

Buna göre Sevde konuşmasında;

I- Üretim

II- Dağıtım

III- Tüketim

faaliyetlerinin hangisinden bahsetmemiştir?

- A) Yalnız I
B) Yalnız II
C) I ve II
D) II ve III
3. Ramazan, ödevlerini bitirdikten sonra kanepeye geçerek biraz dinlenmiştir. Uyuması için bir saat daha vakti olduğunu fark eden Ramazan, kitabından yirmi sayfa kadar okumuş, sonra dişlerini fırçalayıp yatağına yatmıştır.

Verilen bilgilere göre Ramazan hangi konuda israftan kaçınmıştır?

- A) Kâğıt
B) Elektrik
C) Zaman
D) Su

4. Aşağıda bir bölgeye ait kroki görseli yer almaktadır.



Bu kroki ile ilgili aşağıdakilerden hangisi yanlıştır?

- A) Kuş bakışı çizilmiştir.
B) Belli bir ölçek kullanılmıştır.
C) Mesafeler göz kararı ayarlanmıştır.
D) Belirli yerlerin birbirlerine göre konumları belirtilmiştir.
5. Kadir Öğretmen: "Evinizden çıkarken asansörü kullanmayınız. Dışarıda iseniz duvar diplerinden uzak durunuz. Evinizi terk etme durumunuz yoksa sağlam bir eşyanın yanında hayat üçgeni oluşturunuz."
- Kadir Öğretmen hangi afet konusunda öğrencilerini bilgilendirmeye çalışmaktadır?**
- A) Deprem
B) Sel
C) Heyelan
D) Çığ
6. I. Dünya Savaşı sonunda yenilen tarafta yer alan Osmanlı Devleti, galip devletlerle bir antlaşma yaptı. Bu antlaşmaya göre Osmanlı Devleti kendini savunma hakkını yitirmiş oldu. Antlaşmanın bazı maddelerine göre de topraklarımız yabancı devletlerin işgaline açık hale gelmiştir.

Metinde anlatılan antlaşma aşağıdakilerden hangisidir?

- A) Mondros Ateşkes Antlaşması
B) Ankara Antlaşması
C) Lozan Barış Antlaşması
D) Mudanya Ateşkes Antlaşması

7.



Hatice, küçük yaşlardan itibaren elektronik devrelere ilgi duyan bir çocuktur. Bu ilgisini o şöyle anlatmaktadır: "Elektronik araçlarla ilk tanışmam babamın bana aldığı hesap makineli kol saati ile oldu.

Sonrasında bozulan eski radyoların içini açıp incelemeye başladım."

Bu bilgilere göre Hatice'nin seçmesi gereken kulüp aşağıdakilerden hangisidir?

- A) Çevre Kulübü
- B) Bilim ve Teknoloji Kulübü
- C) Sosyal Yardımlaşma Kulübü
- D) Fotoğrafçılık Kulübü

8. Ülkemizi ziyaret eden bir gezgin kendi internet sayfasında şunları paylaşır: "Türkiye'de birinin evini ziyaret eden misafirlere sürekli bir şeyler ikram edilmek istenir. Yemek daveti olmasa dahi o ailenin evinde yemeden içmeden oturmak pek mümkün değildir. Misafirlkte misafirlere önce kolonyaya verilir, kolonyadan hemen sonra ve şeker ya da çikolata ikram edilir. Yanında kahve veya çay mutlaka olur.

Verilen örnek hangi kültürel unsurumuza aittir?

- A) El sanatları
- B) Halk oyunları
- C) Mimari yapılar
- D) Gelenek-görenekler

9. Kişisel olarak hiçbirimiz birbirimizin benzeri değiliz. Her birimiz duygu ve düşüncelerimizle, ten rengimizle, konuştuğumuz dille farklı özellikler taşıyabiliyoruz. Birbirimizi değişik özelliklerimizden dolayı dışlamamalıyız. Nasıl ki bir bahçe rengârenk çiçeklerle güzelse, biz insanlarda farklılıklarımızla güzel ve anlamlıyız.

Aşağıdaki davranışlardan hangisi metinde anlatılanlara uygun değildir?

- A) Erhan'ın kendi gibi düşünmeyen Ali'den uzak durmaya başlaması
- B) Ömer'in Afrika'dan gelen Hemmam'la kısa sürede kaynaşip arkadaş olması
- C) Gözleri göremeyen Seval'i sınıf arkadaşlarının oyunlarına alması
- D) Farklı takımları tutan ikiz kardeşlerin takımları maç kazanınca birbirlerini tebrik etmeleri

10.

A ● -	J ● - - -	S ● ● ●
B - ● ● ●	K - ● -	T -
C - ● - ●	L ● - ● ●	U ● ● -
D - ● ●	M - -	V ● ● ● -
E ●	N - ●	W - - -
F ● ● - ●	O - - -	X - ● ● -
G - - ●	P ● - - ●	Y - ● - -
H ● ● ● ●	Q - - - -	Z - - ● ●
I ● ●	R ● - ●	

Sosyal Bilgiler kitabında Mors alfabesini inceleyen Hanne, ismini bu alfabeyle yazmaya çalışmıştır.

Aşağıdakilerden hangisi "Hanne" isminin Mors Alfabesine göre yazılmış halidir?

A)	●●●	● -	● -	- ●	●
B)	●●●	- ●	● -	- ●	●
C)	●●●	● -	- ●	- ●	●●
D)	●●●	● -	- ●	- ●	●

Sosyal Bilgiler testi sona ermiştir. Lütfen Diğer Teste Geçiniz.

Cevap Formunuzda Cevaplarınızı Bir Sonraki Bölüme Kodlayınız.

1. Esmâü'l-Hüsna, Allah'a ait güzel isimler demektir. Bu isimlerden birinin anlamı şöyle tanımlanabilir: "Dünyada bütün canlılara şefkat gösteren, kendisine inansın ya da inanmasın bütün insanlara merhamet eden, her türlü nimeti sürekli veren, rahmeti sonsuz olan."

Bu tanımın ait olduğu isim aşağıdakilerden hangisinde geçmektedir?

- A) Hamt âlemlerin Rabbi Allah'a mahsustur.
B) O, Rahman ve Rahîm'dir.
C) Ceza gününün Malikidir.
D) (Rabbimiz!) Ancak sana kulluk ederiz ve yalnız senden medet umarız.

2. Bir öğrenci Din Kültürü ve Ahlak Bilgisi dersinde Fatiha suresini ve Türkçe anlamını okuyordu. Surenin ilk ayetinin besmele olduğunu fark etti. Diğer sureler de besmele ile başlar ancak ilk ayetleri besmele olmazdı. Hafızlar Kur'an okurken her surenin başında besmele çekerek okumaya başlarlar.

Aşağıdakilerden hangisi bu metinde geçen kavramlardan birine ait bir tanım değildir?

- A) Kur'an'ı baştan sona ezberleyen kimse
B) Kur'an-ı Kerim'in birbirinden besmele ile ayrılmış 114 bölümünün her biri
C) Kur'an-ı Kerim'in yirmişer sayfadan oluşan bölümlerinden her biri
D) Sureleri meydana getiren başında ve sonunda yer alan özel işaretlerle birbirinden ayrılan bir veya birkaç cümle

3. "Bir Müslümanın din kardeşine üç günden fazla küs durması ve karşılaştıklarında birbirlerinden yüz çevirmeleri helal olmaz." (Buhârî)

Peygamberimizin bu hadisi söyleme amacı ile ilgili aşağıdakilerden hangisi söylenemez?

- A) Sevgi ve dostluğun zedelenmesini önlemek
B) İnsanların birbirlerine olan kızgınlıklarını azaltmak
C) Toplumsal birlik ve beraberliği arttırmak
D) Fakirlerin temel ihtiyaçlarını gidermeye istekli olmak

4. "Allah'a ibadet edin ve ona hiçbir şeyi ortak koşmayın. Ana babaya, akrabaya, yetimlere, yoksullara, yakın komşuya, uzak komşuya, yanınızdaki arkadaşına, yolcuya, elinizin altındakilere iyilik edin. Şüphesiz, Allah kibirlenen ve övünen kimseleri sevmez." (Nisa suresi, 36. ayet)

Verilen ayetten aşağıdaki ilkelerden hangisine ulaşamaz?

- A) Allah'ı bir kabul edip yalnızca ona kulluk edilmelidir.
B) Çevremizdeki kimselere iyilik etmek her Müslümanın görevlerindedir.
C) Sahip oldukları konusunda kişiye düşen görev onları helal yollardan kazanmaktır.
D) Kendini başkalarından büyük gören kimse Allah'ın hoşlanmadığı bir işi yapmış olur.

5. Peygamberimiz Mekke'de herkes tarafından saygı duyulan ve ahlakıyla takdir toplayan bir kimseydi. Hiçbir zaman putlara tapmamıştı. Kötü davranışlardan kaçınması ile kendisine "Hanif" adı verilmişti.

Verdikleri isme göre Mekkeliler Hz. Peygamber'i aşağıdakilerden hangisine benzetmiştir?

- A) Hz. İbrahim
B) Hz. Yusuf
C) Hz. Adem
D) Hz. İsa

6. Hz. Peygamber (s.a.v.) bir hadisinde şöyle buyurmuştur: "Yemeğe başlarken besmele çekin! Eğer yemeğin başında besmeleyi unutursanız hatırladığınızda 'evveli için de sonu için de bismillah' deyin."

Buna göre Hz. Peygamber (s.a.v.) yemekte aşağıdakilerden hangisinin yapılmasını tavsiye etmiştir?

- A) Hamd edilmesini
B) Allah'ın adının anılmasını
C) Selam verilmesini
D) Tekbir getirilmesini

7. Günlük yaşamda dua anlamında pek çok temenni ifadesi kullanırız. Farklı durumlar için kullandığımız farklı dua ifadeleri bulunur. Örneğin zor ve tehlikeli bir iş yapacak kimseye, sınava girecek kimseye veya hasta olan bir kimseye deriz.

Metinde boş bırakılan yerlerden birine aşağıdakilerden hangisi getirilemez?

- A) Allah zihin açıklığı versin!
B) Allah şifa versin!
C) Allah rahmet eylesin!
D) Allah korusun!

8. İslam dininin beş temel şartı vardır. Bu beş temel şartı Hz. Muhammed (s.a.v.) bir hadisinde şu şekilde açıklamaktadır: "İslâm beş esas üzerine kurulmuştur: Allah'tan başka ilah olmadığına ve Muhammed'in Allah'ın Resulü olduğuna tanıklık etmek, namaz kılmak, zekât vermek, hacca gitmek ve Ramazan orucunu tutmak." (Buhârî)

Verilen hadiste sayılan İslam'ın şartlarının ilki aşağıdakilerden hangisi ile isimlendirilmektedir?

- A) Kelime-i Şehadet
B) Kelime-i Tevhid
C) Euzu besmele
D) İstiğfar duası

9. Allah'a, meleklerine, kitaplarına, peygamberlerine, ahiret gününe, kadere, hayır ve şerrin Allah'tan geldiğine inandım. Öldükten sonra diriliş haktır. Allah'tan başka ilâh olmadığına, Hz. Muhammed'in O'nun kulu ve elçisi olduğuna şahitlik ederim.

Anlamı verilen dua aşağıdakilerden hangisidir?

- A) Subhâneke
B) Ettehiyyâtu
C) Kunut
D) Âmentü

10. Allah'ın davetine
Uyup yola düşünce
Kâbe'yi de görünce
'İşte geldim' de hele
Her yıl o ay gelince
Heyecan dolar kalplere
Aç susuz olsak bile
Bayramdır gönüllere
Zengin olan kim ise
Bir de fakir var ise
Malından ona verir ise
'Vardır hakkı' der ise

Verilen şiirde aşağıdaki ibadetlerden hangisine ait bir bölüm yer almamıştır?

- A) Namaz
B) Oruç
C) Hac
D) Zekât

Sınav sona ermiştir. Cevaplarınızı kontrol etmeyi unutmayınız.

